





FİLMİN ADI	İZLEYİCİ SINIRLAMASI	TÜRÜ	İZLEYİCİ SAYISI
SEVİMLİ DOSTLAR	 Genel İzleyici Kitleleri	KOMEDİ	2 MİLYON KİŞİ
KRALIN MACERASI	 7 Yaş ve Üzeri	AKSİYON	4 MİLYON KİŞİ
ROBOTLAR SAVAŞI	 Şiddet / Korku	AKSİYON	3 MİLYON KİŞİ
AVANAK KARDEŞLER	 13 Yaş ve Üzeri	KOMEDİ	1 MİLYON KİŞİ

**KARNESİNİN YANINDA BAŞARI BELGESİNİ GETİREN TÜM ÖĞRENCİLERE KOMEDİ TÜRÜNDEN İSTEDİĞİ BİR FİLM BİLETİ HEDİYE**

**(Sonraki 2 soruyu yukarıdaki krokiye göre cevaplayınız.)**

1. Mehmet Ali ve sekiz yaşındaki kardeşi Sinem birlikte sinemaya giderler. İki de başarılı öğrencilerdir ve sinemanın uyguladığı yukarıdaki promosyondan yararlanmak isterler. Bunun için başarı belgelerini de yanlarına alırlar. Mehmet Ali ile Sinem, izleyici sınırlaması kurallarına da uyararak kendi türünün en çok izlenen filmini seçerler.

**Buna göre seçmiş oldukları film aşağıdakilerden hangisi olmalıdır?**

- A) SEVİMLİ DOSTLAR  
B) KRALIN MACERASI  
C) ROBOTLAR SAVAŞI  
D) AVANAK KARDEŞLER

2. **Tabloya göre aşağıdakilerden hangisi yanlıştır?**

- A) KRALIN MACERASI filmi, türünün en çok izlenen filmidir.  
B) SEVİMLİ DOSTLAR filmini herkes izleyebilir.  
C) On yaşında bir çocuğun izleyebileceği yalnız bir film bulunmaktadır.  
D) Aksiyon filmleri komedi filmlerinden daha çok tercih edilmiştir.

3. Yapım ekleri, eklendiği sözcükten yeni bir sözcük türetir. Yapım eki alan sözcük yeni bir anlam kazanır ve bu kelimeye türemiş sözcük denir.

**Aşağıdaki altı çizili kelimelerden hangisi türemiş bir sözcüktür?**

- A) Makası eline aldığı anda sanki bir sanatçı olurdu.  
B) Şemsiyemin ucuna naylon bir poşet astım.  
C) Hayal aleminde yaşaması en büyük zayıflığıydı.  
D) Sevginin gücünü asla küçümsemek lazım.

4. **Aşağıdaki cümlelerde geçen altı çizili sözcüklerin hangisinde yazım yanlıştır?**

- A) Kurtuluş Savaşı için eldeki tüm imkânlar kullanıldı.  
B) Benim açımdan 2.nci olmak da büyük bir başarıdır.  
C) Bahçe de yirmi iki masa hazırlandı.  
D) Bilinki ben sizin için doğru sözlü bir elçi olmaya çalıştım.

**(Sonraki 2 soruyu aşağıdaki parçaya göre cevaplayınız.)**

Güzel ahlak, en basit şekliyle kendine yapılmasını istemediğin bir şeyi başkasına yapmamandır. Örneğin seninle alay edilmesinden hoşlanmıyorsan sen de başkasıyla alay etmemelisin. Sana yalan söylenmesini istemiyorsan sen de başkasına yalan söylememelisin. Herkes bu kurala uygun davranırsa dünya daha yaşanabilir, daha huzurlu bir yer olurdu.

**5. Verilen metne gelebilecek en uygun başlık aşağıdakilerden hangisidir?**

- A) Dünyada Yaşam
- B) Güzel Ahlak
- C) Sosyal İlişkiler
- D) Doğru Sözlü olmak

**6. Metinde aşağıdaki sorulardan hangisinin cevabı bulunmamaktadır?**

- A) Güzel ahlak nedir?
- B) Güzel ahlaklı olmak için neye dikkat edilmelidir?
- C) Güzel ahlakın yaşam süresine olan etkisi nedir?
- D) Güzel ahlakın topluma kazandıracağı yarar nedir?

**7. Milli Takımımız 2020 Avrupa Şampiyonası eleme grubunda Konya'da oynadığı maçta Fransa'yı yendi. Sonra Fransa'daki maçta da bir beraberlik aldı ve grupta oynadığı diğer maçlardan da aldığı puanlara göre finallere katılmaya hak kazandı.**

**Parçaya göre Milli Takımımız hakkındaki aşağıdaki yargılardan hangisinin doğruluğu kesin bilgi olduğu söylenemez?**

- A) Grup maçlarında Fransa'ya yenilmedi.
- B) Tüm maçlarını Konya'daki statta oynadı.
- C) Fransa'dan başka rakiplerle maç yapmıştır.
- D) Aldığı puanlar Avrupa Şampiyonasına katılmaya yeterli olmuştur.

**8. Ali'nin bindiği servis aracının okula gelmesiyle hemen hemen tüm servisler gelmiş oldu.**

**Altı çizili sözcük grubunun cümleye kattığı anlamı aşağıdakilerden hangisi açıklamaktadır?**

- A) En mükemmel şekilde
- B) Kalabalık yolcularla
- C) En hızlı şekilde
- D) Neredeyse

**9. I- Yalancının mumu yatsiya kadar yanar.**

II- Yalancının evi yanmış, kimse inanmamış.

III- Ardıcın közü olmaz, yalancının sözü olmaz.

**Verilen atasözlerinden hangisi, söylenen bir yalanın eninde sonunda yalan olduğunun ortaya çıkacağını ifade eder?**

- A) Yalnız I
- B) Yalnız II
- C) I ve III
- D) I, II ve III

**10. Bir kimsenin kendi fikrine uygun gördüğü ama doğruluğu kesin olarak ispatlanamayan düşüncelere kişisel görüş denir. Aynı görüş başka kimseler tarafından kabul görmeyebilir çünkü kesinlik arz eden verilere dayanmamaktadır.**

**Buna göre aşağıdaki cümlelerin hangisinde kişisel bir görüş vardır?**

- A) Dün akşam oynanan maç 1-0 sona erdi.
- B) Bu dere kenarı memleketimin en güzel yeridir.
- C) Tayin olduğum okulda sekizinci sınıfta beş şube bulunmaktadır.
- D) 1977 yılının Ekim ayında doğmuşum.



**11.** (1) Güneş açmış, ortalık sınımsız olmaya başlamıştı. (2) Güneşi gören hanımlar tertemiz yıkadıkları çamaşırlarını astılar. (3) Uçsuz bucaksız mavilikte gökyüzü insanın başını döndürüyordu. (4) Günlerce yağmur yağmış, her yer yemyeşil otlarla bezenmişti.

**Bu metindeki numaralandırılmış cümlelerden hangisinde pekiştirilmiş bir sözcük bulunmamaktadır?**

- A) 1. B) 2. C) 3. D) 4.

**12. Aşağıdaki cümlelerin hangisinde zıt (karşıt) anlamlı sözcükler bir arada kullanılmamıştır?**

- A) Elinde ne var ne yoksa hiç düşünmeden yardım sandığına attı.  
B) Gelen misafir rızıkıyla gelir, çoğunu sofrada bırakır.  
C) Aza kanat etmeyen çoğu bulamaz.  
D) Eskisi küllüğe, yenisi sağlığa derdi babaannem.

**13. Aşağıdaki cümlelerin hangisinde mecaz anlamlı bir deyim kullanılmıştır?**

- A) Yazdıklarını genelde herkes beğenirdi.  
B) Sonunda lise öğrenimini de başarıyla tamamladı.  
C) Herkesçe kabul edilen bir konuda farklı fikirler söylediler.  
D) Ağzında bakla ıslanmaz, duyduğunu hemen başkasına söyledi.

**14. Aşağıdaki cümlelerden hangisinin sonuna ünlem işareti getirilmelidir?**

- A) Eyvah, otobüsümü kaçırdım  
B) Genelde tam zamanında durağa çıktım  
C) Bu defa nasıl oldu da geç çıktım  
D) Şimdi epey uzun bir yol yürümem gerekecek

**15. Bir kimsenin kötü bir davranışını görünce ona bunu söylemek gerekiyor ..... bu bazen karşımızdakini kırabiliyor.**

**Cümlede boş bırakılan yere aşağıdakilerden hangisi getirilmelidir?**

- A) ile  
B) veya  
C) gibi  
D) ancak

**16. Binler bölümünde 350, birler bölümünde ise 23 olan sayının okunuşu aşağıdakilerden hangisidir?**

- A) Üç yüz elli bin yirmi üç  
B) Yirmi üç bin üç yüz elli  
C) Üç yüz yirmi üç bin üç yüz elli  
D) İki yüz otuz bin üç yüz elli

**17. 33046, 88574, 10102, 65930 ve X sayıları büyükten küçüğe doğru sıralanacaktır. Bu beş sayı içinde yer alan ve kaç olduğu bilinmeyen X sayısı, bu sıralamada 3. olarak yer almıştır.**

**Buna göre X sayısı aşağıdakilerden hangisi olabilir?**

- A) 65980  
B) 29870  
C) 43098  
D) 32989

18.

	9	2	4	8					
-	7	0	9	3					

Yukarıdaki işlemde eksilen ve çıkan en yakın yüzlüğe yuvarladığınızda tahmini ve gerçek sonuçlar arasındaki fark kaçtır?

- A) 5  
B) 55  
C) 93  
D) 115

19. "0 - 3 - 8 - 1" rakamlarının tümü yalnızca birer kere kullanılarak yazılabilecek en büyük dört basamaklı doğal sayı ile en küçük dört basamaklı doğal sayının farkı aşağıdakilerden hangisidir?

- A) 8338  
B) 7272  
C) 2430  
D) 6822

20. Kalanlı bir bölme işleminde bölen 7, bölüm 32 ise bölünen en çok kaç olabilir?

- A) 224  
B) 225  
C) 228  
D) 230

21. Toplam fiyatının  $\frac{1}{12}$ 'si 120 TL olan bir cep telefonunun 560 TL'si ödenmiştir.

**Buna göre bu cep telefonu için geriye kaç TL ödenmesi gerekmektedir?**

- A) 880  
B) 920  
C) 1200  
D) 1440

22. Bir araç A şehrinden B şehrine doğru saatte ortalama 85 km hızla hiç durmadan 3 saat gittikten sonra mola veriyor. Mola sonrası araç ortalama hızını 90 km'ye yükseltip 2 saat daha yol alıyor. Bu şekilde B şehrine 80 km kala yakıt almak için bir mola daha veriyor.

**Buna göre A ve B şehirleri arasındaki yolun toplam uzunluğu kaç km'dir?**

- A) 250  
B) 345  
C) 515  
D) 530

23.



Yukarıdaki bilgisayar, 1250 TL peşin, kalanı 9 ay boyunca 275 TL taksitle ödenecek alınacaktır.

Buna göre bilgisayarın toplam fiyatı kaç TL'dir?

- A) 2875
- B) 3250
- C) 3525
- D) 3725

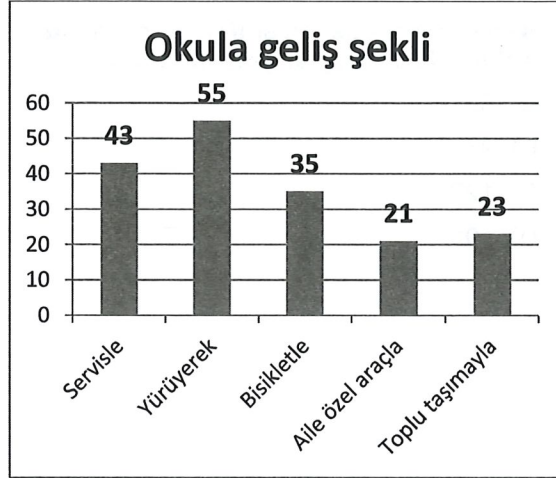
24.

		▲	6	5			
	+	2	★	●			
		1	2	3	9		

Verilen ●, ▲ ve ★ sembolleriyle gösterilen rakamların sayı değeri toplamı aşağıdakilerden hangisidir?

- A) 9
- B) 13
- C) 20
- D) 33

25. Aşağıdaki grafikte bir okuldaki öğrencilerin okula ulaşımının nasıl olduğu gösterilmiştir.



Grafığe göre aşağıdakilerden hangisi yanlıştır?

- A) Okula herhangi bir araçla gelenler yürüyenlerden daha çoktur.
- B) Ailesi tarafından özel araçla okula gelenler azınlıktadır.
- C) Bisikletle gelenlerin tümü havanın soğuk olduğu gün toplu taşımaya binse bile yürüyerek gelenleri sayıca geçmezdi.
- D) Yürüyerek veya bisikletle gelenler neredeyse tüm öğrencilerin yarısını oluşturmaktadır.

26. Adana Şakir Paşa Havalimanına gelmek üzere İstanbul'dan 12:45'te kalkan uçak tam olarak 1 saat 34 dakika sonra yere iner. Uçakta bulunan bir yolcu ise uçak indikten sonra 23 dakika süren havaalanı çıkış işlemlerinin ardından havaalanından ayrılır.

Buna göre bu yolcunun havaalanından ayrılış zamanı aşağıdakilerden hangisidir?

- A) 13:45
- B) 13:53
- C) 14:19
- D) 14:42



27. 4 - 11 - 32 - ..... - 284

Sayı dizisinde her bir sayı bir önceki sayının 3 katının 1 eksiği olarak yazılmıştır.

**Buna göre boş bırakılan yere aşağıdakilerden hangisi getirilmelidir?**

- A) 63
- B) 95
- C) 127
- D) 195

28. Bir mağazada satışa çıkarılan eldivenlerin günlere göre satış miktarı aşağıdaki tabloda belirtilmiştir.

Gün	Pazar-tesi	Salı	Çarşamba
Kaçta kaç satılmış	$\frac{16}{75}$	$\frac{9}{75}$	$\frac{23}{75}$

**Buna göre mağazada Perşembe günü başlarken eldivenlerin kaçta kaç henüz satılmamıştır?**


A)	$\frac{25}{75}$
B)	$\frac{6}{75}$
C)	$\frac{27}{75}$
D)	$\frac{30}{75}$

29. Bir fabrikada işçiler 3 grup halinde çalışmaktadır. Her grupta 18'er işçi bulunmaktadır. Bu işçiler bir günde sekiz saat çalışmaktadır. Ancak yarısı akşam bir saat fazla mesai yapmaktadır.

**Buna göre gün sonunda bu fabrikada toplam kaç saat çalışılmış olmaktadır?**

- A) 54
- B) 144
- C) 432
- D) 459

30.



**Görseldeki kesir şekli ile ilgili aşağıdakilerden hangisi yanlıştır?**

- A) Taralı olmayan alanın yazılışı bileşik bir kesirdir.
- B) Taralı alanın kesir olarak yazılışı  $\frac{19}{24}$  tür.
- C) Bu şekil 24 eşit parçaya ayrılmıştır.
- D) Boyalı-boyasız alanların farkı  $\frac{14}{24}$  tür.

31. Ülkemiz maden kaynakları açısından büyük oranda kendine yeten ülkelere sahiptir. Farklı şehirlerimizde yer altından çok çeşitli madenler çıkarılmaktadır. Ancak bunlardan birine geleceğin madeni adı verilmiş olup gelecekte yakıt amacıyla kullanılacağı belirtilmektedir. Bu maden Dünya'da da en çok ülkemizde çıkarılmaktadır.

**Metinde hangi madene ait bilgi verilmiştir?**

- A) Bor
- B) Altın
- C) Çelik
- D) Alüminyum

32. Yerkürenin manto katmanında bulunan magma yeryüzüne ulaşarak soğur ve katılaşır. Bunun sonucunda kayalar oluşur. Bu kayalar rüzgâr, sıcaklık farkı, yağmur ve akarsu gibi etkenlerle çeşitli şekillerde parçalanır. Bu işlemin sonucunda kayalar çeşitli maddelere dönüşür.

**Aşağıdakilerden hangisi kayaların parçalanmayla dönüştüğü bu maddelerden değildir?**

- A) Kaya
- B) Fosil
- C) Çakıl
- D) Kum

33. Yerkabuğunda bulunan bazı kayalar ekonomik açıdan çok değerlidir. Bunlara maden adı verilir ve pek çok eşyanın üretiminde kullanılırlar. Örneğin ...

**Aşağıdakilerden hangisi bu metnin sonuna örnek olarak getirilemez?**

A)



Alüminyum tencere

C)



Gümüş çatal kaşık

B)



Altın küpe

D)



Ahşap rahle

34. I. Kardan adamın güneşte erimesi

II. İçindeki suyu sıkılan bir süngerin bırakılınca eski haline gelmesi

III. Çaydanlıktaki suyun buharlaşması

**Verilenlerden hangisi maddenin hal değişimine örnektir?**

- A) Yalnız II
- B) I ve II
- C) I ve III
- D) I, II ve III

35. Gece biterken ve sabah olurken Güneş'in doğu tarafından doğduğunu görürüz. Gün içinde Güneş önce tam tepemize gelir. Sonra da batı yönünden batar.

**Bunun nedeni aşağıdakilerden hangisidir?**

- A) Dünya'nın Güneş çevresindeki dolanımı
- B) Dünya'nın kendi eksenini çevresindeki dolanımı
- C) Güneş'in evrende hareket etmesi
- D) Dünya ve Güneş'in arasına Ay'ın girmesi

36. Bir canlının fosilleşmesi için ölümünden sonra havayla temasının kesilmesi gerekir. Uzun süre geçse bile havayla teması hiç olmadığı için kalıntısı bozulmadan kalabilir.

**Buna göre aşağıdakilerden hangisinde fosilleşmiş canlı kalıntısına örnek verilmiştir?**

- A) Bitki reçinesine yapışarak ölen böcekler
- B) Toprağa düşen çürümüş bir meyve
- C) Eti tamamen çürümüş olan balık kılıcı
- D) Yırtıcılar tarafından yenmiş hayvan iskeleti

37. Ali, biraz sık hastalanan bir çocuktur. Babası onu doktora götürdü. Doktor, Ali'nin sık hastalanmaması için bol bol vitamin alması gerektiğini söyledi.

**Ali, doktorun tavsiyesine uymak için aşağıdakilerden hangisini sıklıkla tüketmelidir?**

- A) Süt
- B) Ekmek
- C) Meyve
- D) Tereyağı

38. Cenk, son zamanlarda aşırı kilo almıştı. Ailesi, Cenk'i bir doktora götürerek bu duruma tedbir almak ister. Doktor, Cenk'in hareketli bir çocuk olduğunu söylemiştir ve yediklerine dikkat ederse kilo verebileceğini ifade eder. Ayrıca ona bir diyet listesi vererek nelerden kaçınması gerektiğini anlatır.

**Buna göre Cenk'in listesinde akşam yemeği aşağıdakilerden hangisi olabilir?**

- A) Balık, salata, meyve
- B) Kremalı pasta, şekerli içecek
- C) Patates kızartması, köfte, kola
- D) Tereyağlı börek, cips, ayran

39. Kuvvetin cisimler üzerinde çeşitli etkiler vardır. Örneğin kuvvet;

- I- Duran cisimleri hareket ettirebilir.
- II- Hareket halindeki cisimleri yavaşlatabilir.
- III- Cisimlerin şeklini değiştirebilir.

**Aşağıdakilerden hangisi yukarıda verilen kuvvetin etkilerinden birine örnek gösterilemez?**

- A) Hızla yere doğru inen bir askerin paraşütünü açması
- B) Bir fabrikada metal levhaların preslenerek tencere yapılması
- C) Bir öğrencinin oturmak için sandalyesini çekmesi
- D) Bir topun duvara çarparak farklı bir yöne doğru gitmesi

40.



**Verilen gruplardaki mıknatıslar birbirlerine yaklaştırıldığında oluşacak sonuç aşağıdakilerden hangisidir?**

	I.	II.	III.
A)	İter	Çeker	Çeker
B)	İter	İter	Çeker
C)	Çeker	İter	Çeker
D)	İter	Çeker	İter

**1. Bölüm sona ermiştir. Lütfen Diğer Teste Geçiniz.**



1. Hepimizin doğuştan getirdiğimiz farklı özelliklerimiz var. Gerek bedensel gerek zihinsel bu farklılıklar nedeniyle hiç kimse bir başkasından daha değerli ya da değersiz olamaz. Bir kimsenin ten renginin, saç şeklinin farklı olması onu diğerlerinden daha değerli yapmaz.

**Verilen metinden aşağıdakilerden hangisine ulaşamaz?**

- A) Herkes birbirinden farklı özelliklere sahip olabilir.
- B) Farklı görünüşü nedeniyle kimse ayıplanmamalıdır.
- C) Herkesin aynı düşünceye sahip olması gerekir.
- D) Doğuştan gelen özelliklerimizle başkalarından daha değerli olmayız.

2. İnsanlar ne kadar benzer olurlarsa olsunlar birbirlerinden farklı olan yanları da bulmaktadır. Bazı özellikler her kişide farklı olup yalnızca o kişiye özgüdür.

**Aşağıdakilerden hangisi bunlara örnektir?**

- A) Göz rengi
- B) Ayak numarası
- C) Saç şekli
- D) Parmak izi

3. Ceren: "Arkadaşlar! İki yıl önce okulumda yazılım ve programlama ile ilgili bir kursa katıldım. Çok hoşuma gitmişti. O günden beri bu konuda çalışmayı sürdürüyorum. Basit de olsa ilk programlarımı yazdım. Bu konuda kendimi geliştirip iyi bir eğitim almak istiyorum."

**Metne göre Ceren'in aşağıdaki alanlardan hangisine ilgisi olduğu söylenebilir?**

- A) Bilişim
- B) Spor
- C) Tiyatro
- D) Müzik


4.

- I. İlkokulda okurken küçük kardeşim dünyaya geldi.
- II. Ankara'nın ilçesi olan Nallıhan'da memur bir baba ile ev hanımı bir annenin çocuğu olarak dünyaya geldim.
- III. Sekiz aylıkken ailem konuşmaya başladığımı söylüyor.
- IV. Altı yaşımdayken semtimizdeki anaokuluna gittiğimi hatırlıyorum.

**Bir öğrencinin hayatıyla ilgili yazdığı önemli olayların kronolojik olarak doğru sıralanışı aşağıdakilerden hangisinde verilmiştir?**

- A) II - III - IV - I
- B) I - II - IV - III
- C) III - I - IV - II
- D) IV - I - III - II

5.



Çetin, basit elektrik devreleri ile oynamayı severdi. Boş zamanlarında kendi kendine bu devrelerden yapar, onları çalıştırmaktan hoşlanırdı.

**Buna göre Çetin'in okulda katılması gereken eğitici kulüp aşağıdakilerden hangisidir?**

- A) Kızılay Kulübü
- B) Bilim ve Teknoloji Kulübü
- C) Çevre Koruma Kulübü
- D) Bilinçli Tüketici Kulübü

6. Aile tarihini oluşturmak isteyen bir kimsenin görüşme listesinde aşağıdakilerden hangisi bulunmalıdır?

- A) Sınıf arkadaşı
- B) Kurs öğretmeni
- C) Anneannesi
- D) Karşı komşusu

7. İtilaf Devletleri Birinci Dünya Savaşı sonunda Osmanlı Devleti'nin doğu illerinde bir Ermeni Devleti kurulması için harekete geçtiler. Ancak onları bölgede bulunan tek düzenli birliğimiz olan 15. Kolordumuz durdurdu. Çünkü bu kolordunun başındaki komutan Sevr Antlaşmasına uymayıp askerlerini terhis etmemiş, kolorduyu dağıtmamıştı.

**Bu komutanın ismi aşağıdakilerden hangisidir?**

- A) Fevzi ÇAKMAK
- B) Kazım KARABEKİR
- C) İsmet İNÖNÜ
- D) Refet BELE

8. Ali Saip Bey, 1919 yılında sonradan Fransızların işgale gelecekleri şehrin Jandarma Komutanlığına atanmıştı. Komutanı olduğu şehrin Fransızlara karşı başlattığı direniş ve milli mücadele hareketini yönetti. Sonunda Fransızların şehirden atılmasını sağladı.

**Ali Saip Bey'in Fransızlara karşı milli mücadeleye liderlik ettiği şehir aşağıdakilerden hangisidir?**

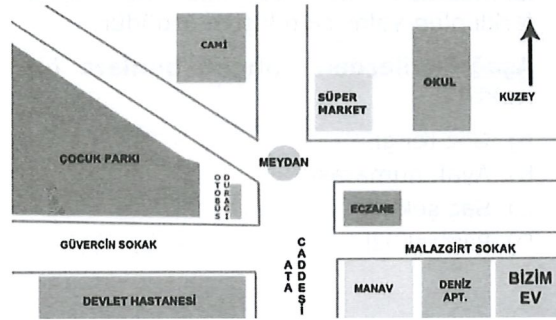
- A) Antep
- B) Maraş
- C) Urfa
- D) Hatay

9. I. Konya Ovası  
II. Hirfanlı Barajı  
III. Kocaeli Körfezi

**Verilenlerden hangisi ülkemizde bulunan doğal unsurlardan sayılmaktadır?**

- A) Yalnız II
- B) I ve III
- C) II ve III
- D) I, II ve III

10.



**Yukarıda verilen krokiden aşağıdaki bilgilerden hangisine ulaşamaz?**

- A) Yerleşim yerinin nüfus yoğunluğuna
- B) Çocuk parkının hastaneye göre hangi yönde olduğuna
- C) Krokinin güneyinde hangi yerlerin olduğuna
- D) Okulun meydanın ne tarafında olduğuna